


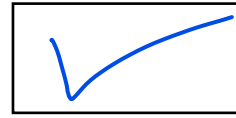
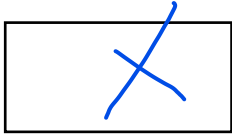


حيدر



نموذج اختبار وحدة يظهر مهارة أعمال الصيانة			
اسم الوحدة	يظهر معرفة ومهارة في أعمال الصيانة العامة	مخرج التعلم	- يستخدم أدوات الصيانة الأساسية وفق الطرق الصحيحة واحتياجاتها - يظهر معرفة بأنواع أدوات القص الأساسية في الصيانة واستخداماتها -
معيار الأداء	جميع المعايير المنجزة	السنة الدراسية / الفصل الدراسي	2024 - 2023
اسم الطالب/ة	مريم التامسي	اسم المجموعة	الفصل الثالث

أسئلة الاختبار	
السؤال الاول	ضع علامة (✓) على أداة الشد؟
السؤال الثاني	صل بين الصور ومعدات القص والخاصة بها؟
السؤال الثالث	ضع دائرة على جهاز الجراند من بين الصور

السؤال الأول / ضع علامة (✓) على أداة الشد؟



السؤال الثاني : صل بين الصور ومعدات القص الخاصة بها؟



السؤال الثالث: ضع دائرة على جهاز الجراند من بين الصور؟



أتمنى لكم التوفيق والنجاح